



AD SOYAD:

No:

Sınıf: 5/

Tarih:

[SORU 1] Bilişim Teknolojilerinin kullanım alanlarından 5 tanesini yazınız.

(BTY.5.1.1. Günlük yaşamda kullanılan bilişim teknolojilerini sınıflandırabilme)

- | | | |
|----|----|----|
| 1) | 3) | 5) |
| 2) | 4) | |

[SORU 2] Aşağıdaki görsele göre “Yanlış Kullanım ve Öneri” tablosunu tamamlayınız.

(BTY.5.1.2. Bilişim teknolojilerinin birey ve toplum üzerindeki etkilerini özetleyebilme)



	YANLIŞ KULLANIM TESPİTLERİ	ÇÖZÜM ÖNERİSİ
1		
2		
3		
4		
5		

1



3



2



4

**[SORU 3]** Sol tarafta yer alan görsele 4 ayrı eDevlet uygulamasının logoları numaralandırılmıştır. Buna göre kısa cevaplı soruları yanıtlayınız.

(BTY.5.1.3. Dijital vatandaşlık uygulamalarını sınıflandırabilme)

a) Milli Eğitim Bakanlığı tarafından FATİH projesi ile geliştirilmeye başlanan, öğretmen ve öğrencilerin eğitim amacıyla içerikler için kullandıkları eğitim portalının numarasını yazınız. [___]

b) Kişisel sağlık bilgilerine ve hizmetlere ulaşmayı amaçlayan Sağlık Bakanlığı uygulamasının numarasını yazınız. [___]






c) Milli Eğitim bakanlığı tarafından geliştirilen hem lise hem de ortaokul öğrencileri için yapay zeka destekli öğrenme uygulamasının numarasını yazınız. [___]

d) Hastaneye gitmeden randevu almayı sağlayan Sağlık Bakanlığı sitesinin numarasının yazınız. [___]

[SORU 4] Yapay zekâ ve insan zekâsı hangi açıdan benzer? 2 ortak özelliği yazınız .

(BTY.5.1.4. Yapay zekâ ile ilgili temel kavramları ve özellikleri sorgulayabilme)

[SORU 5] Aşağıda yer alan donanım birimleri tablosunu doldurunuz. (BTY.5.1.5. Bilgisayar sistemlerini çözümleyebilme)

Donanımın Görseli	Donanım Adı ve Görevi	Donanımın Yeri (İç Donanım-Dış Donanım)
		
		
		
		
		

[SORU 6] Sağ tarafta logoları görülen yazılımlara numara verilmiştir. Buna göre aşağıdaki kısa cevaplı soruları yanıtlayınız. (BTY.5.1.5. Bilgisayar sistemlerini çözümleyebilme)



a) İşletim sistemlerinin numaralarını yazınız. [_____]

b) Uygulama yazılımlarının numaralarını yazınız. [_____]



Fotoğraflar



Yedekler



Donanım Birimleri.pdf



kedi.gif

[SORU 7] Soldaki görselde Bilge'nin USB belleğinin içindeki dosya ve klasörler görülmektedir. Buna göre aşağıdaki kısa cevaplı soruları yanıtlayınız. (BTY.5.1.5. Dosya ve klasör yönetimi ile ilgili temel işlemlerle çalışma)

a) Klasörlerin adlarını yazınız.

b) Görsel dosyaların dosya uzantılarını yazınız.



logo.png



29Ekim.jpg



ödev.docx



kayıt.mp3