













- Aşağıda verilen her bir nesnenin sütuna satır şeklinde konumlarını bulup yazalım.

SÜTUNLAR

SATIRLAR

	A	B	C	D	E	F	G	H	I
1									
2									
3									
4									
5									
6									
7									
8									
9									



{ A , 1 }  
Column Row



{ ..... , ..... }



{ ..... , ..... }



{ ..... , ..... }



{ ..... , ..... }



{ ..... , ..... }



{ ..... , ..... }



{ ..... , ..... }



{ ..... , ..... }



{ ..... , ..... }



{ ..... , ..... }



{ ..... , ..... }